

# 中学社会 歴史的分野

## 第1章 人類の出現と文明 2. 古代文明

### 基本の解説と問題



【担当講師】  
秀浦 りき

# 第1章 人類の出現と文明 2. 古代文明

解説  
その1

## 【メソポタミア文明】

年代	できごと
紀元前 3300年ごろ	チグリス・ユーフラテス川流域で メソポタミア文明が起こる

### 〈特徴〉

- くさび形文字の使用
- 太陰暦
- 60進法



木 人 神 器 魚

くさび形文字



メソポタミア文明の発達地域

## 2. 古代文明


解説  
その2

### 【 エジプト文明 】

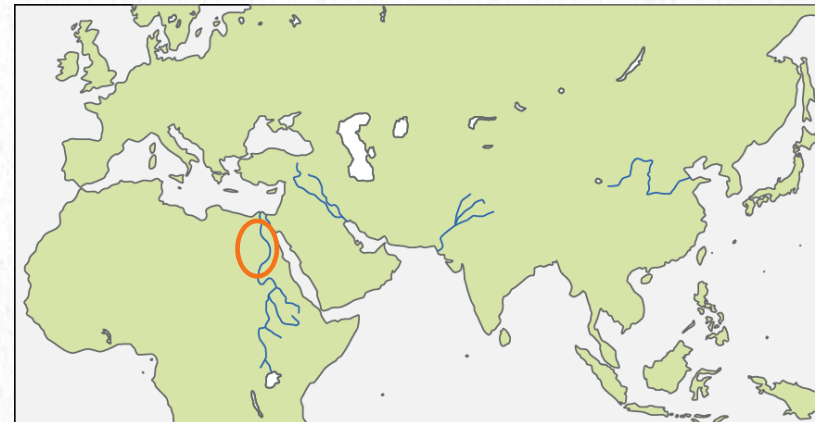
年代	できごと
紀元前 3000年ごろ	ナイル川流域で エジプト文明が起こる

#### 〈特徴〉

- 象形文字
- 太陽暦
- ピラミッド



象形文字



エジプト文明の発達地域

## 2. 古代文明


解説  
その3

### 【 インダス文明 】

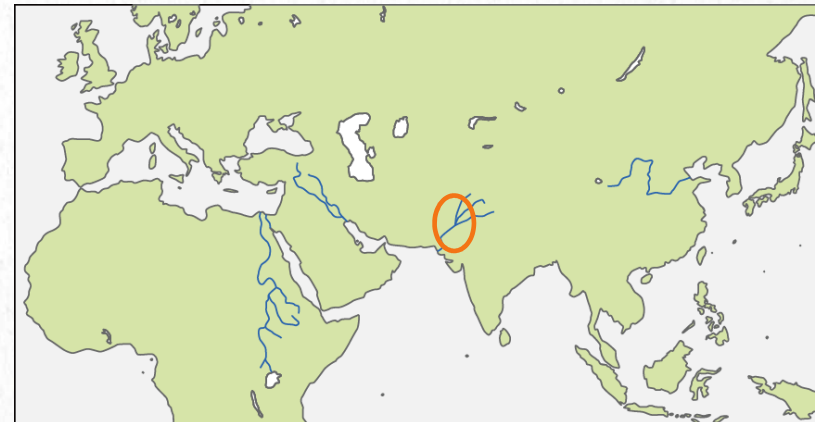
年代	できごと
紀元前 2500年ごろ	インダス川流域で インダス文明が起こる

#### 〈特徴〉

- ・文字や印章の使用
- ・モヘンジョ=ダロの遺跡
- ・カースト制度



モヘンジョ  
=ダロの遺跡



インダス文明の発達地域

## 2. 古代文明

### 重要事項のまとめ

これだけは  
覚えよう!!



【メソポタミア文明】・・・紀元前3300年ごろ

チグリス・ユーフラテス川流域

- ・くさび形文字
- ・太陰暦
- ・七曜制
- ・60進法など

【エジプト文明】・・・・・・紀元前3000年ごろ

ナイル川流域

- ・象形文字
- ・太陽暦
- ・ピラミッドなど

【インダス文明】・・・・・・紀元前2500年ごろ

インダス川流域

- ・インダス文字や印章
- ・モヘンジョ=ダロの遺跡など

## 基本問題 次の問いに答えなさい。



1. 紀元前3300年ごろ、チグリス・ユーフラテス川流域で栄えた文明を何というか。

2. 紀元前3000年ごろ、ナイル川流域で栄えた文明を何というか。

3. 2. の文明で発達した文字を何というか。

4. 紀元前2500年ごろ、インダス川流域で栄えた文明を何というか。

## 基本問題 次の問いに答えなさい。



1. 紀元前3300年ごろ、チグリス・ユーフラテス川流域で栄えた文明を何というか。

メソポタミア文明

2. 紀元前3000年ごろ、ナイル川流域で栄えた文明を何というか。

エジプト文明

3. 2. の文明で発達した文字を何というか。

象形文字

4. 紀元前2500年ごろ、インダス川流域で栄えた文明を何というか。

インダス文明

## 応用問題 次の年表を見てあとの問いに答えなさい。

年代	できごと
紀元前3300年ごろ	メソポタミア文明が発達した …………… A
紀元前3000年ごろ	エジプト文明が発達した …………… B
紀元前2500年ごろ	インダス文明が発達した …………… C

1. Aの文明が発達した文字を何というか。
2. Bの文明は何という川の流域で栄えたか。
3. Bの文明で見られる王族の墓を何というか。
4. Cの文明で栄えた都市遺跡を何というか。

  
テストに  
よくでる!!

それでは、応用問題を  
がんばって解いてください。

