

# 中学社会 地理的分野 日本地理編

---

## 日本の諸地域 中部地方

### 1. 自然・地形・農業



【担当講師】  
秀浦 りき

## 基本の解説と問題

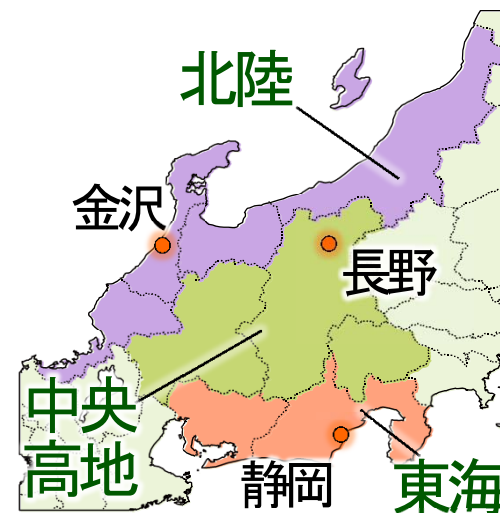
# 1 中部地方の気候

## 【三区分と気候】

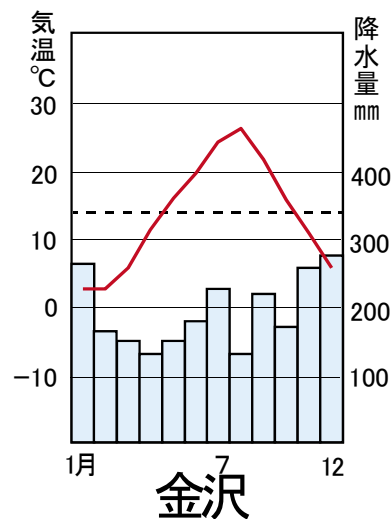
日本海側 → 冬 降水量(雪)多い

内陸 → 降水量少・気温差大

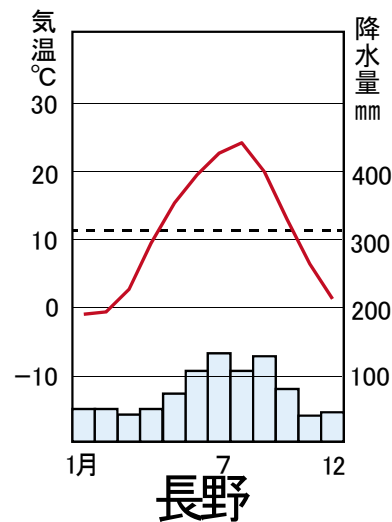
太平洋側 → 夏 降水量多い



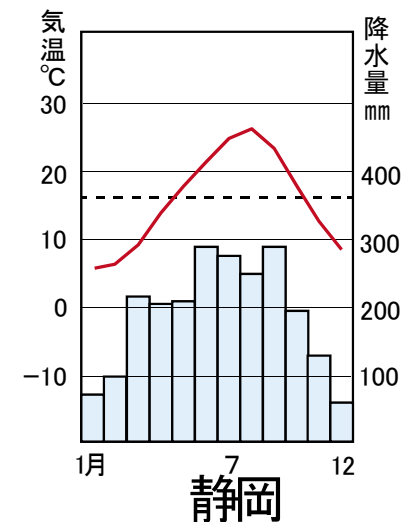
### 〈日本海側気候〉



### 〈内陸性気候〉



### 〈太平洋側気候〉



## 2 中部地方 自然・地形・農業

The map shows the Chubu region of Japan, including prefectures such as Toyama, Ishikawa, Fukui, Gifu, Aichi, Shizuoka, Nagano, and Niigata. Key geographical features like the Japanese Alps (North, Central, South), the Tone River, and the Hakkaido-Nobori Plateau are marked. Agricultural products like rice and apples are also indicated.

Labels and associated empty boxes:

- Top left: [ ]
- Water田 [ ]
- Top right: [ ]
- Water田 [ ]
- Left side: [ ]
- Left side: [ ] が発生
- Left side: <日本アルプス>
- Left side: (北アルプス)
- Left side: (中央アルプス)
- Left side: (南アルプス)
- Left side: [ ]
- Left side: 下流は [ ]
- Left side: [ ]
- Left side: 米・近郊農業 [ ] [ ] [ ] [ ]
- Right side: [ ]
- Right side: [ ] が発生
- Right side: [ ]
- Right side: [ 日本最長 ]
- Right side: [ ] が盛ん
- Right side: [ ]
- Right side: [ ] [ ]
- Right side: [ 丘陵地で [ ] ]
- Right side: [ ] [ ]

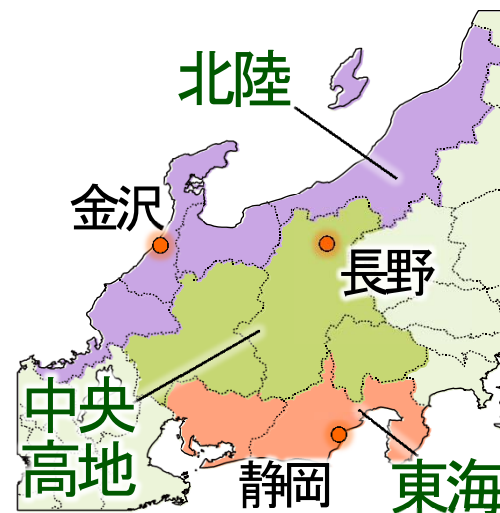
# 1 中部地方の気候

## 【三区分と気候】

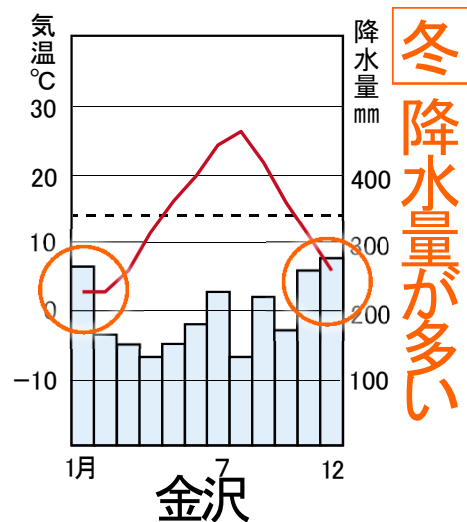
**北陸** : 日本海側 → **冬** 降水量(雪)多い

**中央高地** : 内陸 → 降水量少・気温差大

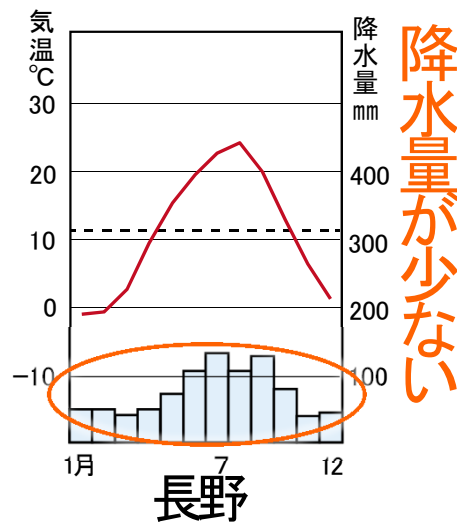
**東海** : 太平洋側 → **夏** 降水量多い



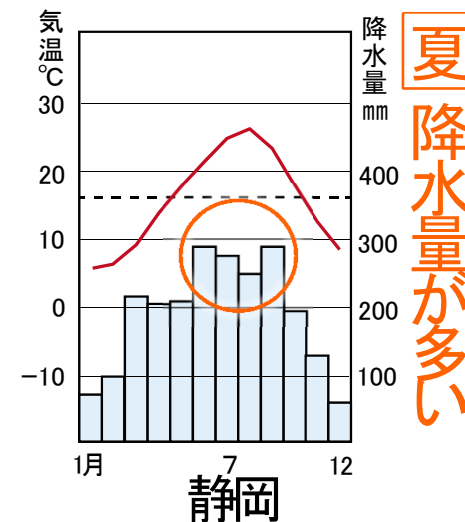
### 〈日本海側気候〉



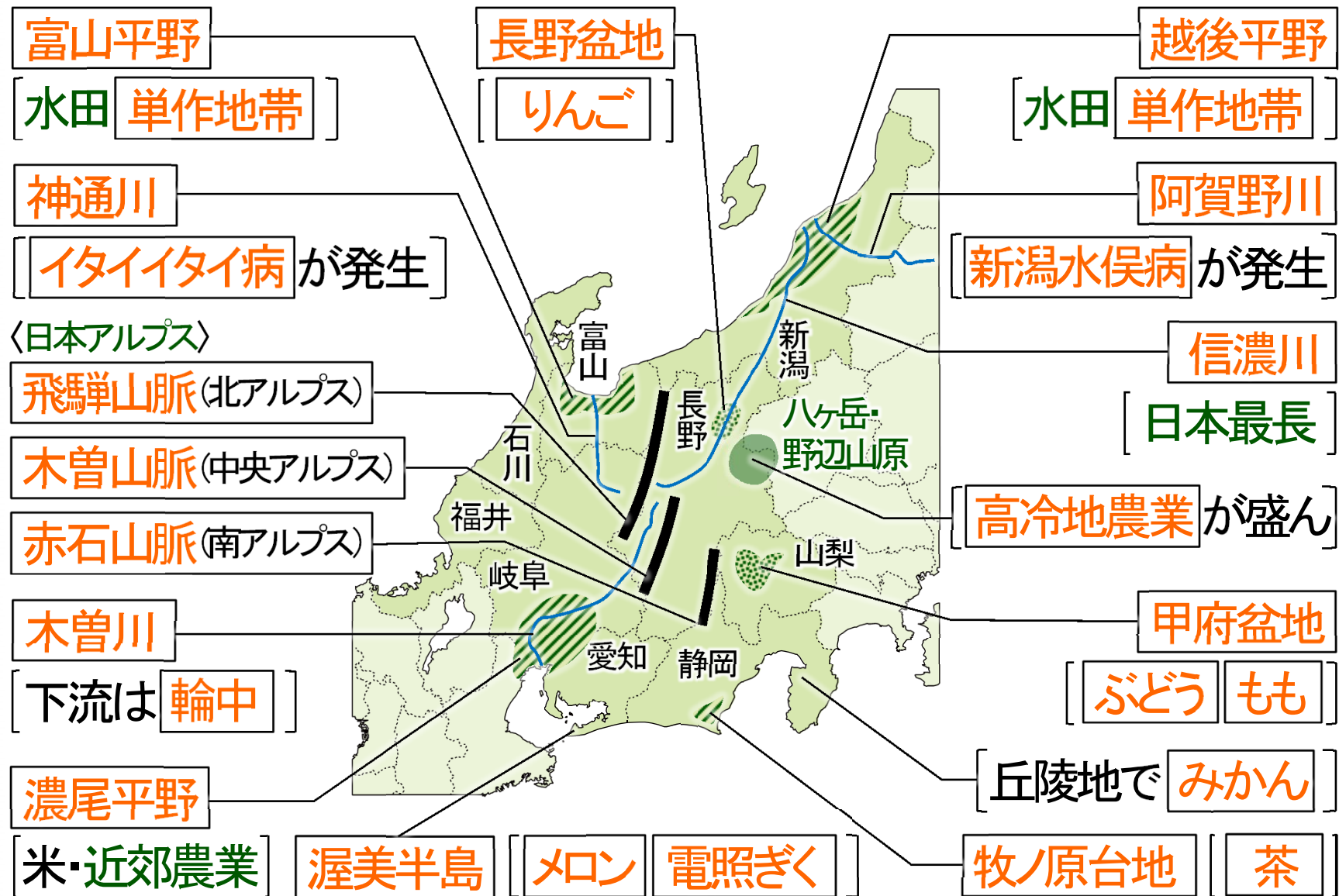
### 〈内陸性気候〉



### 〈太平洋側気候〉



## 2 中部地方 自然・地形・農業



【注釈】「飛驒」は、「飛驒」の俗字で、正式な漢字は、「飛驒」となります。

【日本アルプス】

飛騨山脈(北アルプス)・木曽山脈(中央アルプス)・赤石山脈(南アルプス)

【河川】

信濃川(日本最長)・木曽川(下流域では堤防で囲んだ輪中がみられる)

阿賀野川(新潟水俣病が発生)・神通川(イタイタイ病が発生)

【平野・盆地など】

越後平野・富山平野:米の単作地帯

長野盆地:りんご(1位青森、2位長野)

八ヶ岳・野辺山原:夏でも冷涼な気候を利用して出荷時期を遅らせる  
高冷地農業を行う →レタスなどの高原野菜を栽培

甲府盆地:扇状地 ぶどう・もも

静岡県:丘陵地でみかん(1位和歌山、2位愛媛、3位静岡)

牧ノ原台地で茶(1位静岡、2位鹿児島)

渥美半島:メロン・電照ぎく 豊川用水がある

濃尾平野:米 近郊農業

## 基本問題 次の問いに答えなさい。



1. 長野県や新潟県に流れる日本一長い河川を何というか。
2. 茶の栽培が盛んな静岡県の台地を何というか。
3. ぶどう・ももの栽培が盛んな山梨県の盆地を何というか。
4. 中部地方にある3000m級の飛騨・木曾・赤石の三つの山脈を何というか。
5. 長野県の八ヶ岳などで行われている、夏の冷涼な気候を利用してレタスなどを栽培する農業を何というか。

## 基本問題 次の問いに答えなさい。

1. 長野県や新潟県に流れる日本一長い河川を何というか。
2. 茶の栽培が盛んな静岡県の台地を何というか。
3. ぶどう・ももの栽培が盛んな山梨県の盆地を何というか。
4. 中部地方にある3000m級の飛騨・木曾・赤石の三つの山脈を何というか。
5. 長野県の八ヶ岳などで行われている、夏の冷涼な気候を利用してレタスなどを栽培する農業を何というか。

信濃川

牧ノ原台地

甲府盆地

日本アルプス

高冷地農業

# 日本の諸地域 中部地方

## 1. 自然・地形・農業

# 応用問題



# 応用問題

地図中みて次の問いに答えなさい。

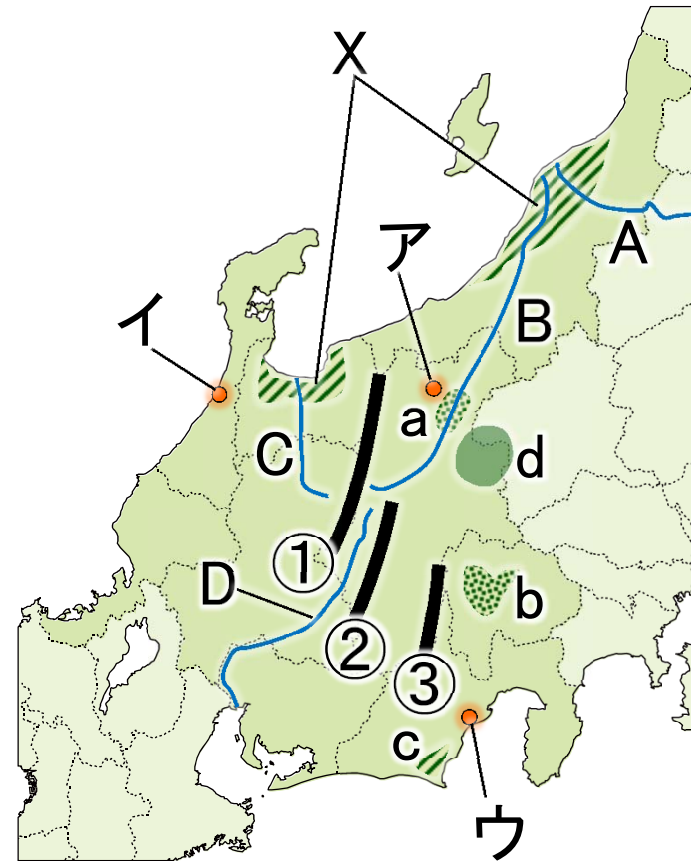
(1) ①②③の山脈をそれぞれ答えなさい。



①	②
③	

(2) 地図中A～Dの河川について次の問いに答えなさい。

① イタイイタイ病が発生した川はA～Dのうちどれか。

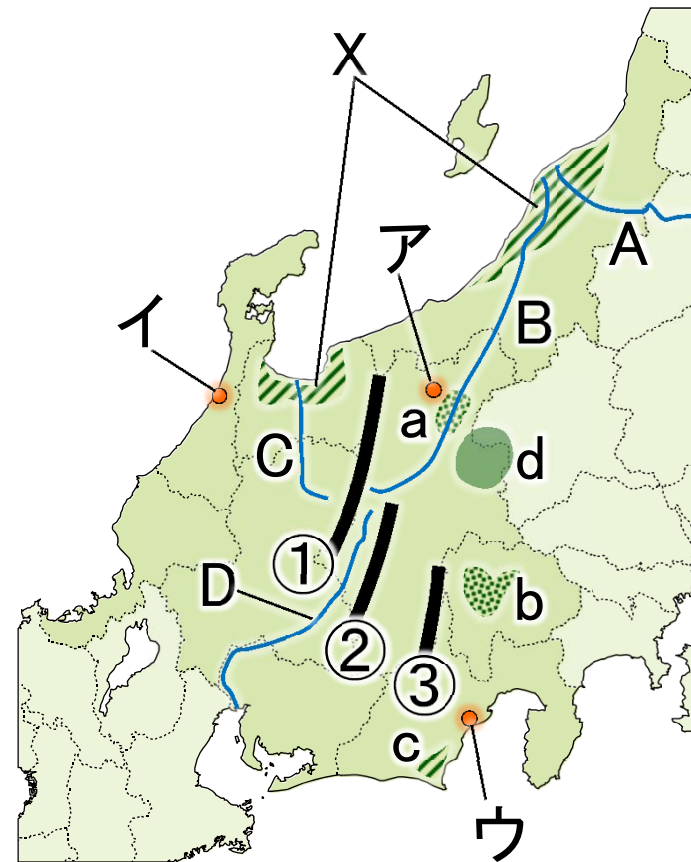


次のページへつづく

②下流域では、周りを堤防で囲った輪中という集落がある。

(3)Xの平野は稲作が盛んであるが、冬の積雪が多いため、年に一度しか米を栽培できない。このような地帯を何というか。漢字6字で答えなさい。

よくだる!



次のページへつづく

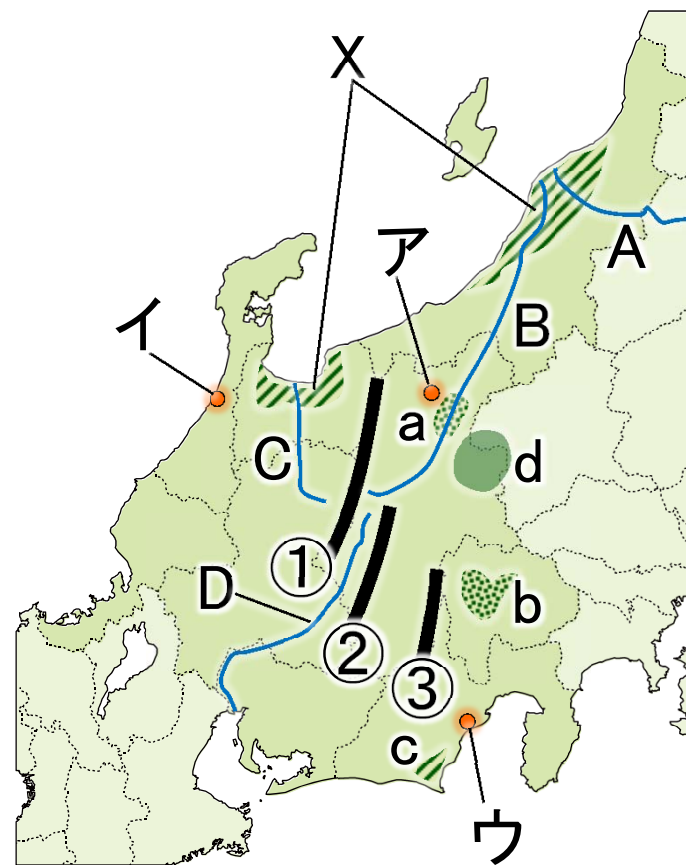
(4) a の盆地で栽培が盛んで、  
この盆地がある県が青森につ  
いで第2位の生産高となってい  
る農作物は何か。

(5) b の盆地で栽培が盛んな果  
実を2つ答えなさい。

よくでる!



(6) c の台地で栽培が盛んで、全  
国1位の生産高となっている工  
芸作物を答えなさい。



次のページへつづく

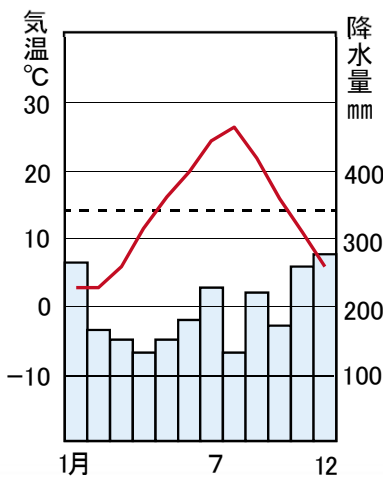
(7) d の地域にある野辺山原で栽培が盛んな農作物は次のうちどれか。

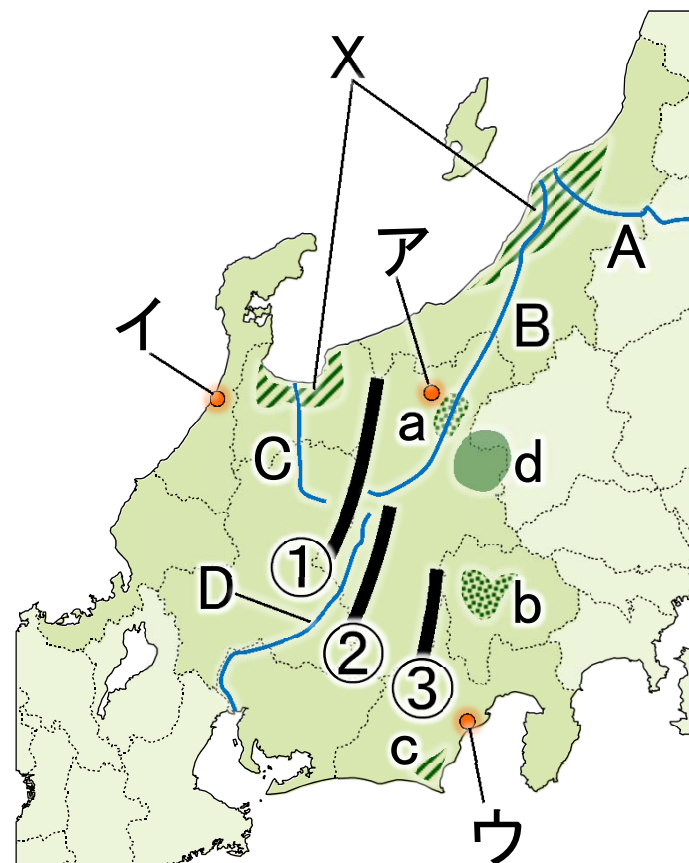
ア レタス    イ 茶

ウ もも    エ メロン

(8) 次の雨温図に当てはまる都市はどこか。地図中のア～ウから選びなさい。

よくでる!  
☞





【以上で問題は終わりです】

(気象庁ホームページより作成)

(C)2013 Prisola International inc.

それでは、応用問題を  
がんばって解いてください。



確認・応用問題・Practiceの解答 (PDF & 解説動画)は、

<http://e-clus.com/> で購入できます。



フリー学習動画のイークルース  
e-CLUS  
中学生向けフリー学習動画のイークルース (e-CLUS)。中学の基本問題から応用までを無料動画で学びます

ホーム 講座のご案内 講座の料金 教材の種類 動画を使った学習方法 運営会社 お問い合わせ

中学の基本問題・解説から応用問題まで  
**無料動画**で**自立学習**

中学校3年間で勉強する英語・数学・理科・社会の学習項目を、動画投稿サイトを使って基礎から応用まで無料で学習できます。  
応用問題の解答が知りたくなったら有料の解答・解説動画をご利用ください。  
マイペースで自立学習ができる学習サイトです。

英語・数学・理科・社会の学習項目を**動画で配信**中!

ユーザー登録 (無料) →  
e-CLUSの指導方法 →  
動画学習で成績がアップする理由 →  
教科書対応表で学習範囲をチェック! →  
中学英語 →

中学英語 動画をチェック!  
中学数学 動画をチェック!  
中学理科 動画をチェック!  
中学社会 動画をチェック!  
季節講座 動画をチェック!

無料動画はユーザー登録しなくても視聴できるって!

パソコンOK! タブレットOK! スマホOK!



学習動画イークルース

検索

