

中学社会《まとめ講座》 地理的分野

1 日本の姿

位置/時差/範囲/地域区分

基本の解説と問題



【担当講師】
秀浦 りき

1 日本の姿

1 日本 の位置

【位置】

約北緯20度～46度
約東経122度～154度
ユーラシア大陸の東
北緯40度=秋田市の上。

【日本列島】

面積約38万km²
北端: 択捉島
南端: 沖ノ鳥島
西端: 与那国島
東端: 南鳥島



2 標準時と時差

【標準時】

標準時＝各国や地域が基準とする時刻。

日本の標準時＝兵庫県明石市を通る、東経135度上の時刻。
↑＝標準時子午線

【時差】

地球は24時間で1回転(360度)する。

$$360 \div 24 = 15$$

1時間あたり15度回転する。

↪ 経度15度で1時間の時差！

基本問題 1 次の問いに答えなさい。



1. 日本は何という大陸の東に位置しているか。

2. 日本の面積はどのくらいか。

3. 日本の国土の南端は何という島か。

4. 日本の標準時子午線は、東経何度か。

5. 経度何度で1時間の時差か。

基本問題 1 次の問いに答えなさい。

解答

1. 日本は何という大陸の東に位置しているか。
ユーラシア大陸
2. 日本の面積はどのくらいか。
約38万km²
3. 日本の国土の南端は何という島か。
沖ノ鳥島
4. 日本の標準時子午線は、東経何度か。
東経135度
5. 経度何度で1時間の時差か。
15度

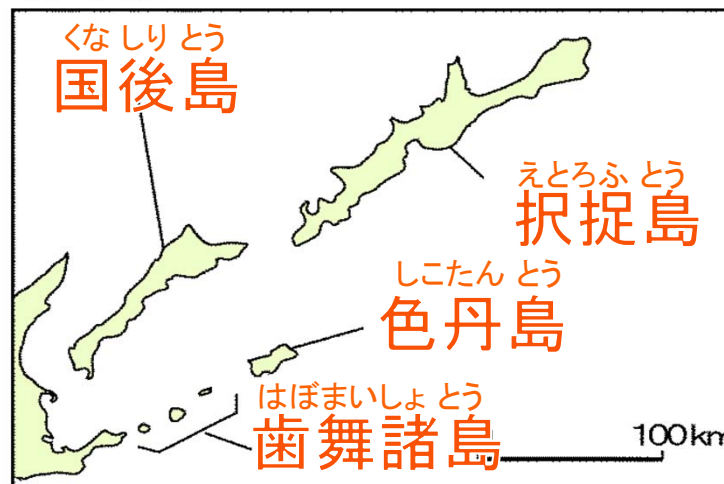
3 日本 の 範囲

【北方領土】

- ・ 択捉島 (えとろふとう)
- ・ 国後島 (くなしりとう)
- ・ 色丹島 (しこたんとう)
- ・ 歯舞諸島 (はぼまいしょとう)

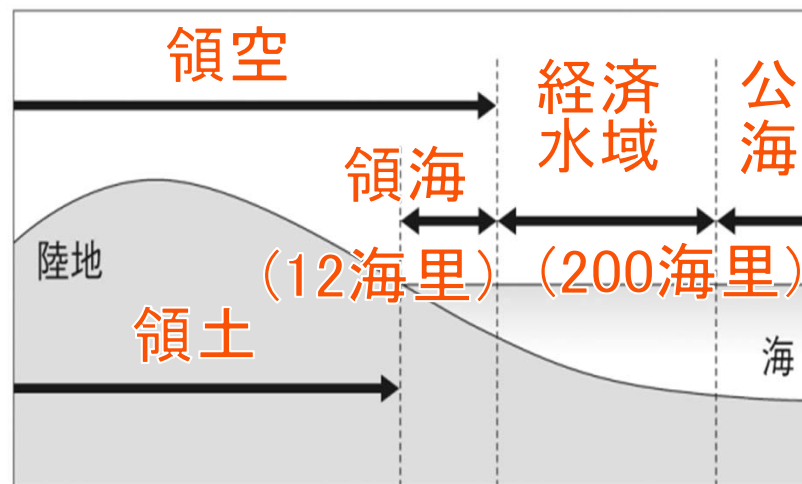
現在は、
ロシア連邦
が占拠。
政府は返還
を要求してい
る。

北方領土



【領域】

- ・ 領土
- ・ 領海 (海岸から12海里)
- ・ 領空 (領土と領海の上空)
- ・ 経済水域 (200海里)
…水産資源や鉱山資源
を沿岸国が管理できる。



4 地域区分

【都道府県】

47の
都道府県
がある。
1都1道
2府
43県 がある。

【県庁所在地】

都道府県と
異なる都市も
ある。

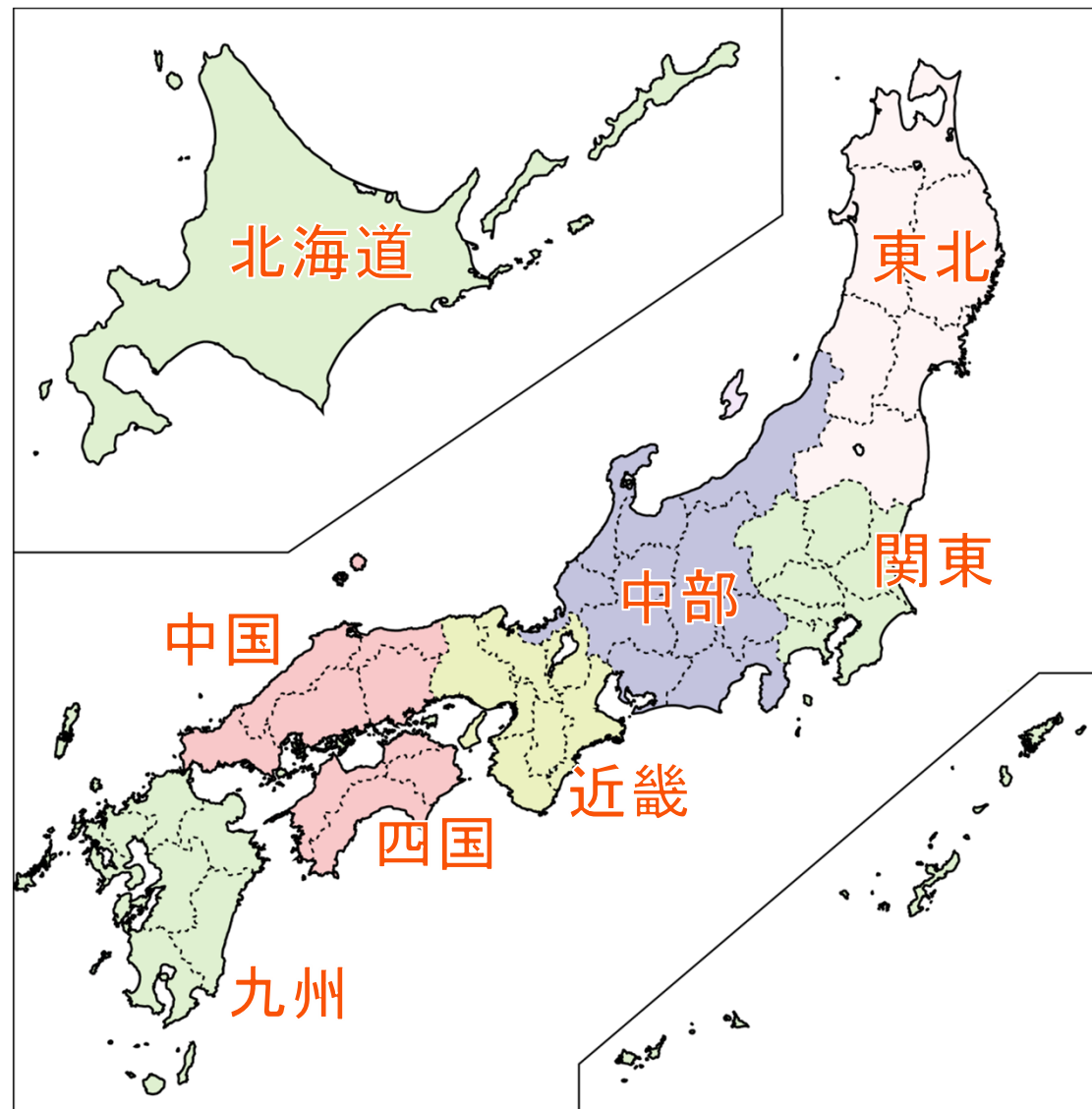


【2区分】

東日本
西日本

【7地方区分】

北海道
東北
関東
中部
近畿
中国・四国
九州
の7つに
分けられる。



【中部地方】

・北陸地方

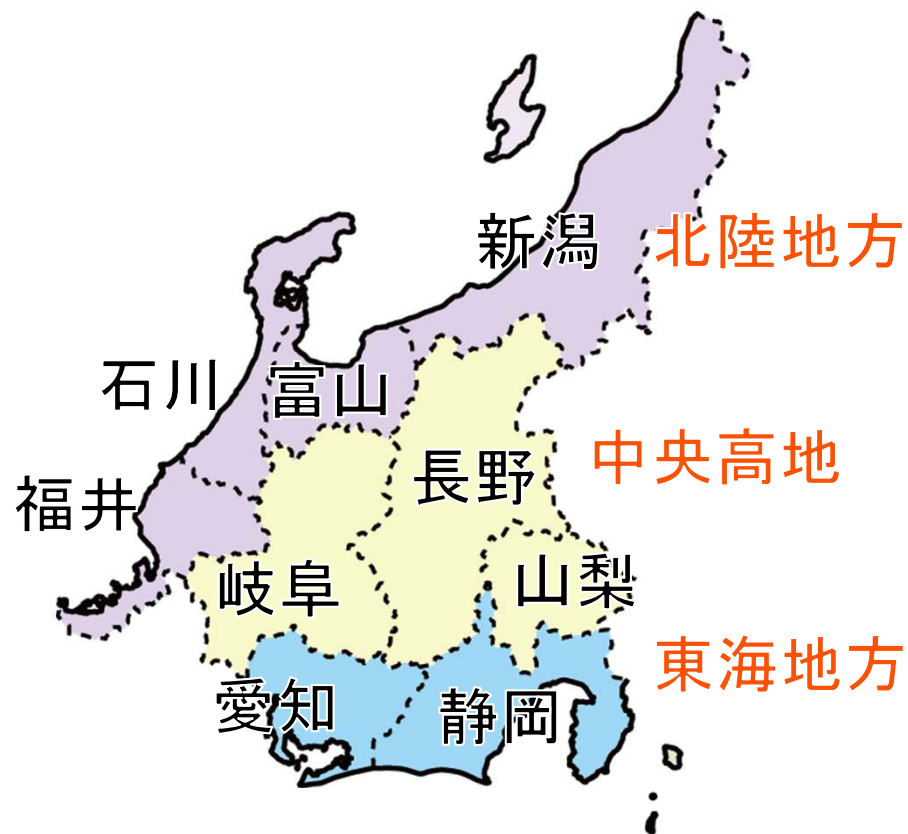
新潟県 富山県
石川県 福井県

・中央高地

山梨県
長野県
岐阜県

・東海地方

静岡県
愛知県



基本問題 ② 次の問いに答えなさい。



1. 日本がロシア連邦に返還を要求している地域を何というか。
2. 1. のうち日本の最北端に当たる島を何というか。
3. 領土から12海里の海域を何というか。
4. 日本を7地方に分けたとき、三重県は何地方に属するか。
5. 中部地方を3つに区分したとき、愛知県と静岡県は何地方に属するか。

基本問題 ② 次の問いに答えなさい。

解答

1. 日本がロシア連邦に返還を要求している地域を何というか。

北方領土

2. 1. のうち日本の最北端に当たる島を何というか。

択捉島

3. 領土から12海里の海域を何というか。

領海

4. 日本を7地方に分けたとき、三重県は何地方に属するか。

近畿地方

5. 中部地方を3つに区分したとき、愛知県と静岡県は何地方に属するか。

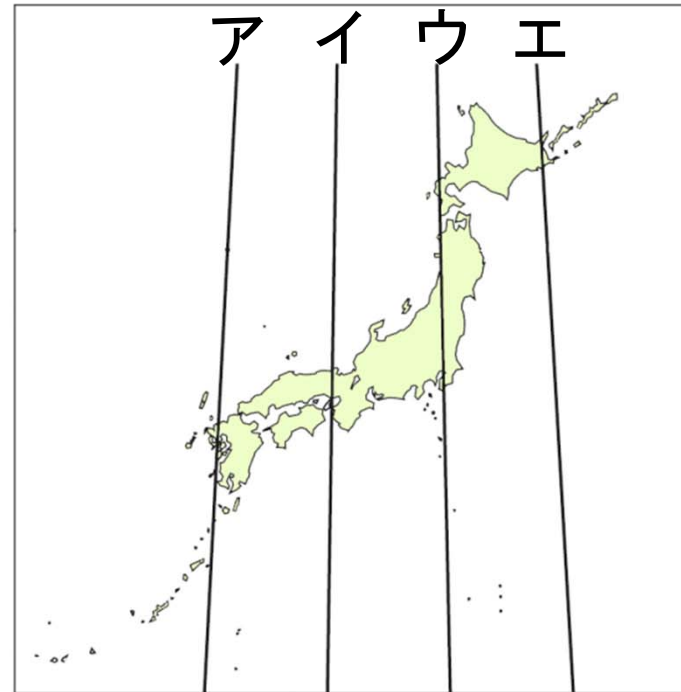
東海(地方)

応用問題 次の問いに答えなさい。

1 右の地図を見て、次の問いに答えなさい。

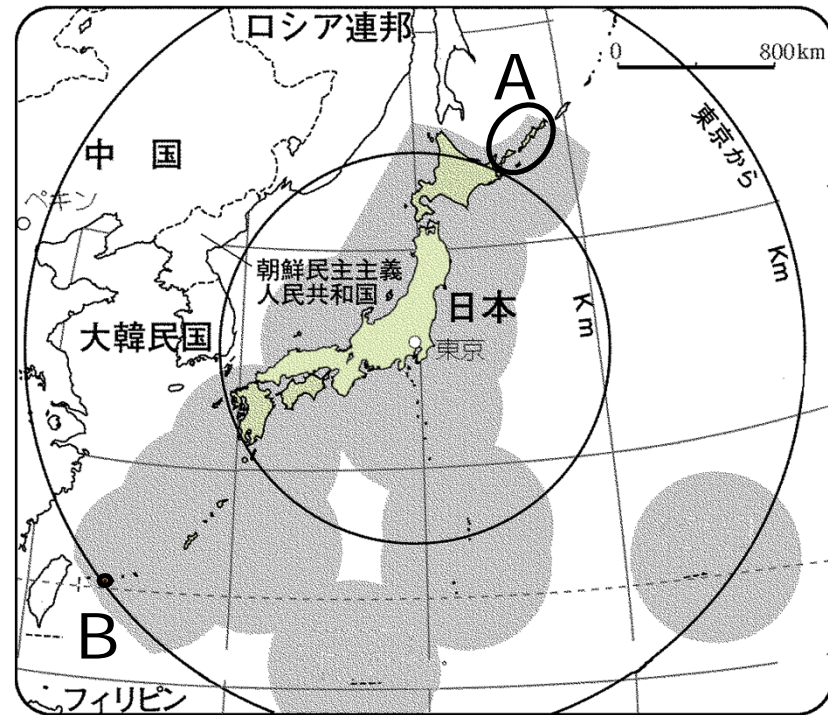
(1)日本の標準時を定める基準となる東経135度の経線を右のア～エの中から1つ選びなさい。


(2)日本が8月28日の午後3時のとき、ロンドン(本初子午線=0度)は何月何日の何時か。



(3)右のAは、現在ロシア連邦に占拠されている地域である。この地域を何というか。

(4)右のBは日本の最西端の島である。この島を何というか。



(5)右の  は、鉱山資源や水産資源を沿岸国が管理できる範囲である。この範囲を何というか。

テストによくでる!!



次のページへつづく

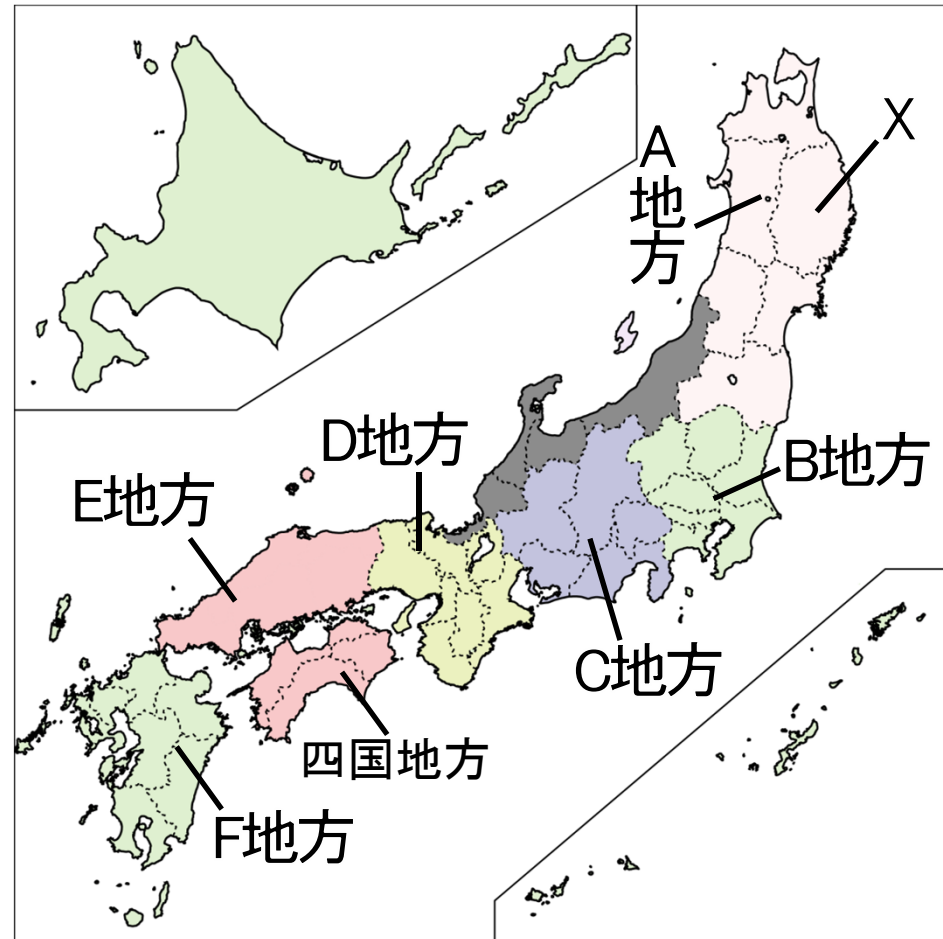
2 右の地図を見て次の問いに答えなさい。

(1) Xの県の県庁所在地はどこか。

テストによくでる!!




(2) 滋賀県は何地方に属するか。
地図中のA地方～F地方から1つ選びなさい。

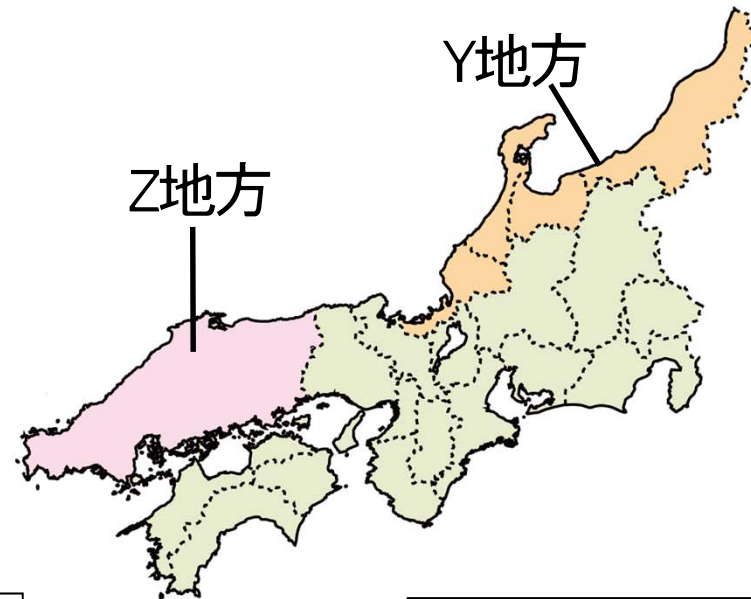


次のページへつづく

やや
難問



(3)右の地図中の  で示されたY地方は何地方と呼ばれているか。また、この地方で都道府県名と県庁所在地名が異なる県が1つある。何という県か。



地方名：

県名：

(4)右の地図中のZ地方には県がいくつあるか。数字を答えなさい。

【以上で問題は終わりです。】

それでは、応用問題を
がんばって解いてください。



確認・応用問題・Practiceの解答(PDF & 解説動画)は、

<http://e-clus.com/> で購入できます。



フリー学習動画のイークルース
e-CLUS
中学生向けフリー学習動画のイークルース (e-CLUS)。中学の基本問題から応用までを無料動画で学びます

ホーム 講座のご案内 講座の料金 教材の種類 動画を使った学習方法 運営会社 お問い合わせ

中学の基本問題・解説から応用問題まで
無料動画 で **自立学習**

中学校3年間で勉強する英語・数学・理科・社会の学習項目を、動画投稿サイトを使って基礎から応用まで無料で学習できます。
応用問題の解答が知りたくなったら有料の解答・解説動画をご利用ください。
マイペースで自立学習ができる学習サイトです。

英語・数学・理科・社会の学習項目を動画で配信中!

中学英語 動画をチェック!
中学数学 動画をチェック!
中学理科 動画をチェック!
中学社会 動画をチェック!
季節講座 動画をチェック!

無料動画はユーザー登録しなくても視聴できるって!

ユーザー登録 (無料) →
e-CLUSの指導方法 →
動画学習で成績がアップする理由 →
教科書対応表で学習範囲をチェック! →
中学英語 →

パソコンOK! タブレットOK! スマホOK!



学習動画イークルース

検索

